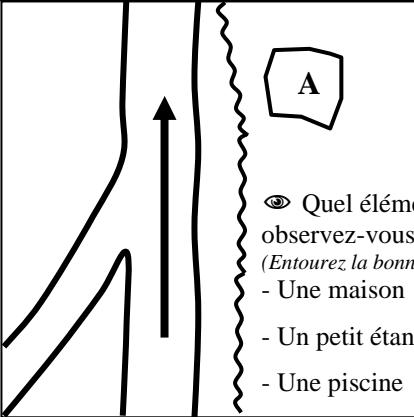


3



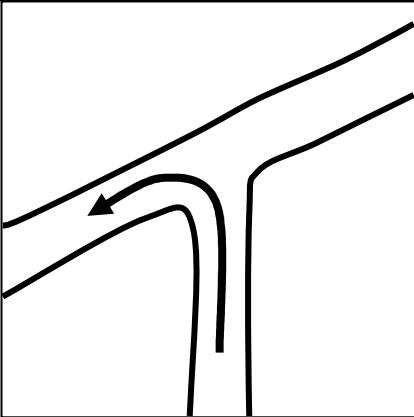
400 m

👁️ Quel élément aménagé observez-vous en A ?
(Entourez la bonne réponse)

- Une maison
- Un petit étang
- Une piscine

👉 Nous longeons un ruisseau (Le Donnerbach) qui coule à droite.

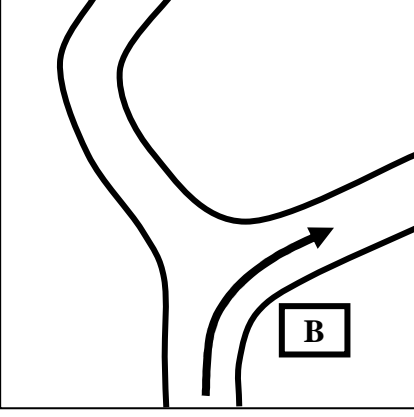
7



1000 m

👉 Nous perdons de l'altitude.

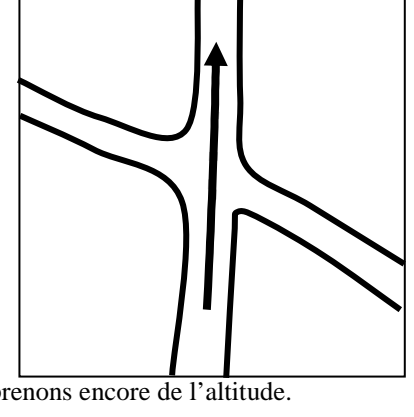
2



100 m

👁️ Qu'indique le panneau en B ?
:.....

6

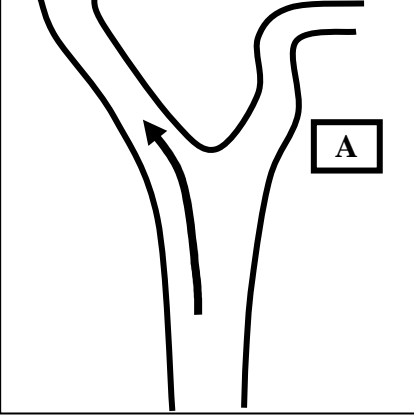


850 m

👉 Nous prenons encore de l'altitude.

👁️ A l'intersection des chemins nous voyons des pins et des bouleaux. De quelle couleur est le tronc du bouleau ?

1

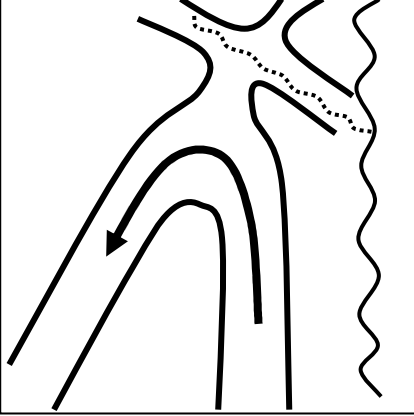


0 m

👉 Nous empruntons le chemin de sable rouge.

👁️ Qu'indique le panneau en A :

5



700 m

👉 Nous continuons à prendre de l'altitude et nous quittons le ruisseau.

Rando-Guide Donnerbach
Départ de la MER
 (Maison de l'Eau et de la Rivière)

Ecole:

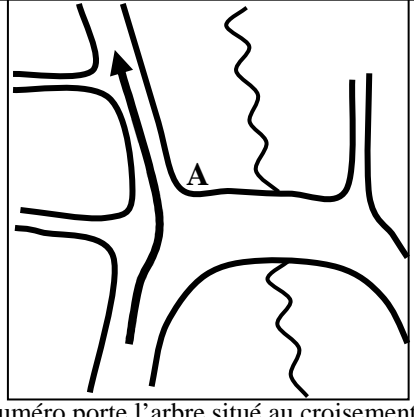
Equipe:

Heure d'arrivée:

Heure de départ:

Temps:

4



500 m

👁️ Quel numéro porte l'arbre situé au croisement des chemins en A?.....

👉 Nous empruntons le chemin qui monte.

11

1550 m

15

2500 m

Tout droit et vous voilà à la MER !!!

10

1450 m

👁️ Quels sont les 2 éléments naturels différents qui gênent le passage en a ?.....

👉 Nous perdons brusquement de l'altitude.

14

2350 m

👁️ A gauche et à droite du petit sentier en A, les arbres sont-ils de la même espèce? Oui ou non?

9

1200 m

👉 Nous continuons à perdre de l'altitude.

13

2000 m

👉 Nous passons à côté d'un bassin qui peut être asséché, puis nous longeons l'étang du Donnerbach jusqu'à l'arrivée.

8

1100 m

👉 Nous perdons encore de l'altitude.

12

1700 m

👁️ Quelle différence observez-vous entre la nature du sol en a et celle du sol en b ? a : b :

👉 Nous arrivons sur un terrain plat.